



時こくと時間

できた数

6

(めあて) 時間のたのびがわかる。/ 時こくと時間がとめられる。

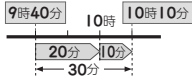
ポイント

時こくと時間のもつめ方

● 9時40分から30分後の時こく ●

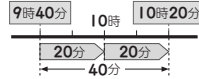


▶ 9時40分から20分後は10時、それから10分後は10時10分。



● 9時40分から10時20分までの時間 ●

▶ 9時40分から10時までは20分、10時から10時20分までは20分。あわせて40分。



1 □にあてはまる数を書きましょう。

- ① 1分 = **60** 秒
- ② 90秒 = **1** 分 **30** 秒
- ③ 1分40秒 = **100** 秒

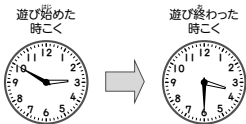
2 下の時計を見て答えましょう。



① 50分後の時こく (**11時10分**)

② 50分前の時こく (**9時30分**)
(9時半)

3 午後2時50分から、午後3時30分まで公園で遊びました。公園で遊んでいた時間は何分ですか。



◎ 2時50分から3時までが10分、3時から3時30分までが30分、あわせて40分になります。

(**40分(間)**)



一万をこえる数①

できた数

7

(めあて) 大きな数のしくみがわかる。

ポイント

一万をこえる数

- 一万を10こ集めた数は十萬、十萬を10こ集めた数は百萬、百萬を10こ集めた数は千萬です。
- どんな数でも10倍すると、位が1つ上がって、右はしに0を1こつけた数になります。
- 一の位が0の数を10でわると、位が1つ下がって、一の位の0をとった数になります。

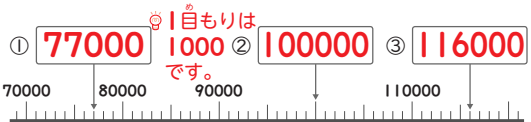
1	2	6	5	3	9	4	8
千	百	十	千	百	十	一	の
万	万	万	万	万	万	万	の
の	の	の	の	の	の	の	位
位	位	位	位	位	位	位	位

[千二百六十五万三千九百四十八]

1 □にあてはまる数を書きましょう。

- ① 450000は、1000を**450**こ集めた数です。
- ② 31072800は、1000万を**3**こ、100万を**1**こ、1万を**7**こ、1000を**2**こ、100を**8**こあわせた数です。
- ③ 1629354の6は、**十萬**の位の数字です。
- ④ 1000万を10倍した数は、**1億** (100000000) です。

2 □にあてはまる数を書きましょう。



一万をこえる数②

できた数

12

(めあて) 大きな数の大小がわかる。/ 大きな数の計算ができる。

1 □にあてはまる不等号を書きましょう。

- ① 32000 **<** 33000 ◎ 大きい位からじゅんにくらべます。
- ② 275900 **>** 275892

2 計算をしましょう。

- ① 50000 + 20000 = **70000**
- ② 120000 - 70000 = **50000**
- ③ 4万 + 9万 = **13万** (130000)
- ④ 25万 - 6万 = **19万** (190000)
- ⑤ 32 × 10 = **320** ◎ 32に0を1こつけた数になります。
- ⑥ 8600 × 10 = **86000**
- ⑦ 19 × 100 = **1900**
- ⑧ 641 × 1000 = **641000**
- ⑨ 530 ÷ 10 = **53** ◎ 530の0を1こつけた数になります。
- ⑩ 4000 ÷ 10 = **400**



表とグラフ

できた数

9

(めあて) ぼうグラフのかき方、読み方がわかる。

ポイント

ぼうグラフ

- 右のように、ぼうの長さで数の大きさを表したグラフを、ぼうグラフといいます。
- 右のグラフのたてのじくの1目もりは、1人を表しています。
- 右のグラフで、ねこがすきな人は4人です。
- 右のグラフで、すきな人がいちばん多い動物は犬です。

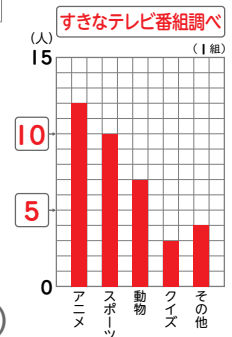


下の表は、1組で、すきなテレビ番組を調べたものです。この表をぼうグラフに表します。

すきなテレビ番組調べ(1組)

しゅるい	アニメ	スポーツ	動物	クイズ	その他	合計
人数(人)	12	10	7	3	4	36

- ① □に、表題を書きましょう。
- ② □に、目もりの数を書きましょう。◎ 1目もりは、1人を表しています。
- ③ それぞれの人数にあわせて、ぼうをかきましょう。
- ④ アニメがすきな人は、スポーツがすきな人より何人多いですか。



(**2人**)